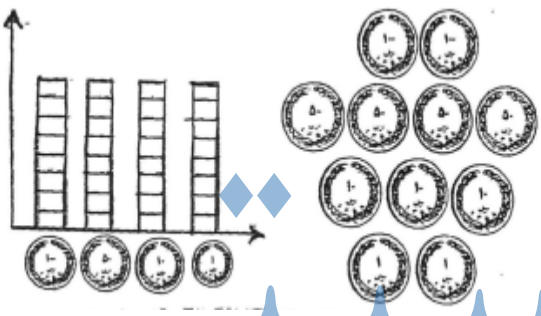



به نام خالق هستی


نام:		ارزشیابی ریاضی	آموزشگاه غیر انتفاعی پسرانه برتران دانش
نام خانوادگی:		پایه دوم	اردیبهشت ۱۴۰۰
ردیف	سوالات		
۱	<p>پسر خوبم با رقم‌های ۴ و ۲ و ۹ هر چه قدر می‌توانی، عدد سه رقمی غیر تکراری بساز و در جدول زیر دسته‌بندی کن و بنویس.</p> <div style="border: 1px solid blue; padding: 5px; margin: 5px 0;"> <p>عددهای زوج:</p> </div> <div style="border: 1px solid blue; padding: 5px; margin: 5px 0;"> <p>عددهای فرد:</p> </div>		
۲	<p>عزیزم پول‌ها را بشمار و بنویس چند ریال است. با توجه به تعداد سکه‌ها، نمودار را رنگ کن. - تعداد کدام سکه از همه بیشتر است.</p> 		
۳	<p>عزیزم با توجه به عبارت‌های نوشته شده هر شکل را رنگ بزن.</p>  <p>سه قسمت از ۹ قسمت مساوی</p> <p>۴ قسمت از ۸ قسمت</p>		
۴	<p>در جای خالی علامت &lt; = &gt; بگذار.</p> <p>یک ربع به دو <input type="checkbox"/> ۱:۳۰</p> <p>۱۵ یکی <input type="checkbox"/> ۵ بسته‌ی ده تایی</p> <p>سه و نیم <input type="checkbox"/> ۲۰ دقیقه مانده به ۴</p> <p>۱۹۸ + ۳ <input type="checkbox"/> ۲۰۶ - ۹</p> <p>دو سه تا <input type="checkbox"/> سه دو تا</p> <p>۵۰ میلی‌متر <input type="checkbox"/> ۴ سانتی‌متر</p> <p>تعداد اضلاع ۹ ضلعی <input type="checkbox"/> تعداد گوشه‌های ۹ ضلعی</p> <p>۲ قسمت از ده قسمت <input type="checkbox"/> ۷ قسمت از ده قسمت</p>		


۵ پسر عزیزم ، با توجه به شکل، جمله را کامل کن.



.....تا.....تایی می شود.....

.....تا..... تایی می شود.....

۶ در نمودار زیر ، تعداد درختان یک خیابان را می بینی. هر درخت با  نمایش داده شده است. با توجه به نمودار جدول زیر را کامل کن.



تعداد	نام درخت
	درخت کاج
	درخت سرو
	درخت افرا

تعداد کدام درخت بیشتر است؟

درخت افرا چند تا از درخت کاج بیشتر است؟

۷ دلبندم پاسخ بده.

- در شمارش ۳ تا ۳ تا بعد از عدد ۱۸ چه عددی است؟

- قبل از عدد ۶۰۰ چه عددی است؟

- یک هشت ضلعی چند گوشه دارد؟

- یک ربع بعد از ۲:۲۰ چه ساعتی است؟

۸ علی و هشت نفر از دوستانش در کلاس بودند.

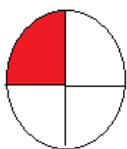
۴ نفر دیگر به کلاس آمدند و ۲ نفر خارج شدند. حالا چند نفر در کلاس هستند؟

۹ الگوی عددی زیر را ادامه بده.

..... و ..... و ..... و ۲۴۱ و ۲۴۳

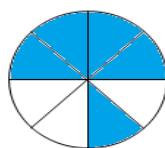
..... و ..... و ۴۸۰ و ۵۷۵

۱۰ در هر هدف، احتمال برخورد تیر به رنگها را بنویس.




احتمال بیش تر: رنگ.....

احتمال کم تر: رنگ.....




احتمال بیش تر: رنگ.....

احتمال کم تر: رنگ.....


۱۱	<p>مهدی ۱۱۲ سانتی متر پرید رضا ۲۸ سانتی متر کم تر از او پرید.</p> <p>الف) رضا چند سانتی متر پریده است؟</p> <p>ب) مهدی و رضا روی هم چند سانتی متر پریده اند؟</p>														
۱۲	<p>پسر گلم، پاسخ جمع و تفریق های زیر را بنویس.</p> <table style="width: 100%; text-align: center;"> <tr> <td><math>356</math></td> <td><math>146</math></td> <td><math>542</math></td> <td><math>245</math></td> </tr> <tr> <td><math>-177</math></td> <td><math>+273</math></td> <td><math>-218</math></td> <td><math>+365</math></td> </tr> </table> <table style="width: 100%; text-align: center;"> <tr> <td><math>100</math></td> <td><math>100+761=...</math></td> <td><math>302-9=...</math></td> </tr> <tr> <td><math>-9</math></td> <td></td> <td></td> </tr> </table>	$356$	$146$	$542$	$245$	$-177$	$+273$	$-218$	$+365$	$100$	$100+761=...$	$302-9=...$	$-9$		
$356$	$146$	$542$	$245$												
$-177$	$+273$	$-218$	$+365$												
$100$	$100+761=...$	$302-9=...$													
$-9$															
۱۳	<p>در شکل زیر چه شباهت ها و تفاوت هایی دارند.</p> <div style="display: flex; justify-content: space-around; align-items: center;"> <div style="border: 1px solid black; width: 40px; height: 40px; display: flex; align-items: center; justify-content: center;">۱</div> <div style="border: 1px solid black; width: 100px; height: 40px; display: flex; align-items: center; justify-content: center;">۲</div> </div> <p>شباهت ها: .....</p> <p>تفاوت ها: .....</p>														
۱۴	<p>حاصل جمع و تفریق های زیر را بصورت فرایندی بدست بیاور.</p> <table style="width: 100%; text-align: center;"> <tr> <td><math>345</math></td> <td><math>286</math></td> </tr> <tr> <td><math>-124</math></td> <td><math>+212</math></td> </tr> </table>	$345$	$286$	$-124$	$+212$										
$345$	$286$														
$-124$	$+212$														
۱۵	<p>ساعت چند است؟ .....</p> <div style="text-align: center;">  </div> <p>- چند دقیقه مانده به ساعت ۵؟.....دقیقه.</p> <p>- یک ربع قبل چند بود؟ .....</p> <p>- نیم ساعت بعد ساعت چند است؟ .....</p>														

عزیزم برای هر جمله شکل بکش.


۱۶



۳ قسمت از ۶ قسمت رنگ شده است.



۳ چهارتا می شود ۱۲ تا



پنج صدتایی و ۹ یکی

باز خورد آموزگار



موفق و پیروز  
باشید

# جزوه سیپی